

**Prima di risolvere i problemi leggete attentamente le spiegazioni sulla prima pagina.**  
 Ogni diagramma con una soluzione sbagliata o incompleta è valutato come un errore.

**1.**

a b c d e f g h

8 | | | | | | | | 8  
7 | | | | | | | | 7  
6 | | | | | | | | 6  
5 | | | | | | | | 5  
4 | | | | | | | | 4  
3 | | | | | | | | 3  
2 | | | | | | | | 2  
1 | | | | | | | | 1

a b c d e f g h

1.Te5

**2.**

a b c d e f g h

8 | | | | | | | | 8  
7 | | | | | | | | 7  
6 | | | | | | | | 6  
5 | | | | | | | | 5  
4 | | | | | | | | 4  
3 | | | | | | | | 3  
2 | | | | | | | | 2  
1 | | | | | | | | 1

a b c d e f g h

1.Tc5

**3.**

a b c d e f g h

8 | | | | | | | | 8  
7 | | | | | | | | 7  
6 | | | | | | | | 6  
5 | | | | | | | | 5  
4 | | | | | | | | 4  
3 | | | | | | | | 3  
2 | | | | | | | | 2  
1 | | | | | | | | 1

a b c d e f g h

1.Te5

**4.**

a b c d e f g h

8 | | | | | | | | 8  
7 | | | | | | | | 7  
6 | | | | | | | | 6  
5 | | | | | | | | 5  
4 | | | | | | | | 4  
3 | | | | | | | | 3  
2 | | | | | | | | 2  
1 | | | | | | | | 1

a b c d e f g h

1.Te4

**5.**

a b c d e f g h

8 | | | | | | | | 8  
7 | | | | | | | | 7  
6 | | | | | | | | 6  
5 | | | | | | | | 5  
4 | | | | | | | | 4  
3 | | | | | | | | 3  
2 | | | | | | | | 2  
1 | | | | | | | | 1

a b c d e f g h

1.Td3

**6.**

a b c d e f g h

8 | | | | | | | | 8  
7 | | | | | | | | 7  
6 | | | | | | | | 6  
5 | | | | | | | | 5  
4 | | | | | | | | 4  
3 | | | | | | | | 3  
2 | | | | | | | | 2  
1 | | | | | | | | 1

a b c d e f g h

1.Tc3

**7.**

a b c d e f g h

8 | | | | | | | | 8  
7 | | | | | | | | 7  
6 | | | | | | | | 6  
5 | | | | | | | | 5  
4 | | | | | | | | 4  
3 | | | | | | | | 3  
2 | | | | | | | | 2  
1 | | | | | | | | 1

a b c d e f g h

1.Tf5

**8.**

a b c d e f g h

8 | | | | | | | | 8  
7 | | | | | | | | 7  
6 | | | | | | | | 6  
5 | | | | | | | | 5  
4 | | | | | | | | 4  
3 | | | | | | | | 3  
2 | | | | | | | | 2  
1 | | | | | | | | 1

a b c d e f g h

1.Te2

**9.**

a b c d e f g h

8 | | | | | | | | 8  
7 | | | | | | | | 7  
6 | | | | | | | | 6  
5 | | | | | | | | 5  
4 | | | | | | | | 4  
3 | | | | | | | | 3  
2 | | | | | | | | 2  
1 | | | | | | | | 1

a b c d e f g h

1.Tf5

Prima di risolvere i problemi leggete attentamente le spiegazioni sulla prima pagina.  
Ogni diagramma con una soluzione sbagliata o incompleta è valutato come un errore.

**1.**

**1.Tc5**

**2.**

**1.Tc6**

**3.**

**1.Tf6**

**4.**

**1.Tc3**

**5.**

**1.Tc3**

**6.**

**1.Tg4**

**7.**

**1.Te4**

**8.**

**1.Td4**

**9.**

**1.Td5**

**Prima di risolvere i problemi leggete attentamente le spiegazioni sulla prima pagina.**  
 Ogni diagramma con una soluzione sbagliata o incompleta è valutato come un errore.

**1.**

a b c d e f g h

1 2 3 4 5 6 7 8

a b c d e f g h

1.Tf5

**2.**

a b c d e f g h

1 2 3 4 5 6 7 8

a b c d e f g h

1.Td5

**3.**

a b c d e f g h

1 2 3 4 5 6 7 8

a b c d e f g h

1.Tf4

**4.**

a b c d e f g h

1 2 3 4 5 6 7 8

a b c d e f g h

1.Tf1

**5.**

a b c d e f g h

1 2 3 4 5 6 7 8

a b c d e f g h

1.Tf3

**6.**

a b c d e f g h

1 2 3 4 5 6 7 8

a b c d e f g h

1.Td3

**7.**

a b c d e f g h

1 2 3 4 5 6 7 8

a b c d e f g h

1.Te6

**8.**

a b c d e f g h

1 2 3 4 5 6 7 8

a b c d e f g h

1.Td3

**9.**

a b c d e f g h

1 2 3 4 5 6 7 8

a b c d e f g h

1.Tc3

**Prima di risolvere i problemi leggete attentamente le spiegazioni sulla prima pagina.**  
 Ogni diagramma con una soluzione sbagliata o incompleta è valutato come un errore.

**1.**

a b c d e f g h

8 | | | | | | | | 8  
7 | | | | | | | | 7  
6 | | | | | | | | 6  
5 | | | | | | | | 5  
4 | | | | | | | | 4  
3 | | | | | | | | 3  
2 | | | | | | | | 2  
1 | | | | | | | | 1

a b c d e f g h

1.Td4

**2.**

a b c d e f g h

8 | | | | | | | | 8  
7 | | | | | | | | 7  
6 | | | | | | | | 6  
5 | | | | | | | | 5  
4 | | | | | | | | 4  
3 | | | | | | | | 3  
2 | | | | | | | | 2  
1 | | | | | | | | 1

a b c d e f g h

1.Tf6

**3.**

a b c d e f g h

8 | | | | | | | | 8  
7 | | | | | | | | 7  
6 | | | | | | | | 6  
5 | | | | | | | | 5  
4 | | | | | | | | 4  
3 | | | | | | | | 3  
2 | | | | | | | | 2  
1 | | | | | | | | 1

a b c d e f g h

1.Tc6

**4.**

a b c d e f g h

8 | | | | | | | | 8  
7 | | | | | | | | 7  
6 | | | | | | | | 6  
5 | | | | | | | | 5  
4 | | | | | | | | 4  
3 | | | | | | | | 3  
2 | | | | | | | | 2  
1 | | | | | | | | 1

a b c d e f g h

1.Tc4

**5.**

a b c d e f g h

8 | | | | | | | | 8  
7 | | | | | | | | 7  
6 | | | | | | | | 6  
5 | | | | | | | | 5  
4 | | | | | | | | 4  
3 | | | | | | | | 3  
2 | | | | | | | | 2  
1 | | | | | | | | 1

a b c d e f g h

1.Te3

**6.**

a b c d e f g h

8 | | | | | | | | 8  
7 | | | | | | | | 7  
6 | | | | | | | | 6  
5 | | | | | | | | 5  
4 | | | | | | | | 4  
3 | | | | | | | | 3  
2 | | | | | | | | 2  
1 | | | | | | | | 1

a b c d e f g h

1.Tf3

**7.**

a b c d e f g h

8 | | | | | | | | 8  
7 | | | | | | | | 7  
6 | | | | | | | | 6  
5 | | | | | | | | 5  
4 | | | | | | | | 4  
3 | | | | | | | | 3  
2 | | | | | | | | 2  
1 | | | | | | | | 1

a b c d e f g h

1.Td4

**8.**

a b c d e f g h

8 | | | | | | | | 8  
7 | | | | | | | | 7  
6 | | | | | | | | 6  
5 | | | | | | | | 5  
4 | | | | | | | | 4  
3 | | | | | | | | 3  
2 | | | | | | | | 2  
1 | | | | | | | | 1

a b c d e f g h

1.Tc4

**9.**

a b c d e f g h

8 | | | | | | | | 8  
7 | | | | | | | | 7  
6 | | | | | | | | 6  
5 | | | | | | | | 5  
4 | | | | | | | | 4  
3 | | | | | | | | 3  
2 | | | | | | | | 2  
1 | | | | | | | | 1

a b c d e f g h

1.Te4

**Prima di risolvere i problemi leggete attentamente le spiegazioni sulla prima pagina.**

Ogni diagramma con una soluzione sbagliata o incompleta è valutato come un errore.

**1.**

a b c d e f g h

8  
7  
6  
5  
4  
3  
2  
1

a b c d e f g h

1.Tf7+

**2.**

a b c d e f g h

8  
7  
6  
5  
4  
3  
2  
1

a b c d e f g h

1.Td3+

**3.**

a b c d e f g h

8  
7  
6  
5  
4  
3  
2  
1

a b c d e f g h

1.Ted6

**4.**

a b c d e f g h

8  
7  
6  
5  
4  
3  
2  
1

a b c d e f g h

1.Tb3+

**5.**

a b c d e f g h

8  
7  
6  
5  
4  
3  
2  
1

a b c d e f g h

1.Tg3+

**6.**

a b c d e f g h

8  
7  
6  
5  
4  
3  
2  
1

a b c d e f g h

1.Tg6+

**7.**

a b c d e f g h

8  
7  
6  
5  
4  
3  
2  
1

a b c d e f g h

1.Tb6+

**8.**

a b c d e f g h

8  
7  
6  
5  
4  
3  
2  
1

a b c d e f g h

1.Te6

**9.**

a b c d e f g h

8  
7  
6  
5  
4  
3  
2  
1

a b c d e f g h

1.Tb2+

**Prima di risolvere i problemi leggete attentamente le spiegazioni sulla prima pagina.**  
 Ogni diagramma con una soluzione sbagliata o incompleta è valutato come un errore.

**1.**

a b c d e f g h

8 7 6 5 4 3 2 1

a b c d e f g h

1.Tg2+

**2.**

a b c d e f g h

8 7 6 5 4 3 2 1

a b c d e f g h

1.Td5+

**3.**

a b c d e f g h

8 7 6 5 4 3 2 1

a b c d e f g h

1.Te5+

**4.**

a b c d e f g h

8 7 6 5 4 3 2 1

a b c d e f g h

1.Tc4+

**5.**

a b c d e f g h

8 7 6 5 4 3 2 1

a b c d e f g h

1.Td2+

**6.**

a b c d e f g h

8 7 6 5 4 3 2 1

a b c d e f g h

1.Tbb3

**7.**

a b c d e f g h

8 7 6 5 4 3 2 1

a b c d e f g h

1.Ta5+

**8.**

a b c d e f g h

8 7 6 5 4 3 2 1

a b c d e f g h

1.Tb6+

**9.**

a b c d e f g h

8 7 6 5 4 3 2 1

a b c d e f g h

1.Td7+

Prima di risolvere i problemi leggete attentamente le spiegazioni sulla prima pagina.  
Ogni diagramma con una soluzione sbagliata o incompleta è valutato come un errore.

**1.**

**1.Th4+**

**2.**

**1.Ta4+**

**3.**

**1.Tdd2**

**4.**

**1.Tf4+**

**5.**

**1.Tc4+**

**6.**

**1.Ta2+**

**7.**

**1.Tde3**

**8.**

**1.Te1+**

**9.**

**1.Td1+**

Prima di risolvere i problemi leggete attentamente le spiegazioni sulla prima pagina.  
Ogni diagramma con una soluzione sbagliata o incompleta è valutato come un errore.

**1.**

**1.Tf6+**

**2.**

**1.Tg6+**

**3.**

**1.Tb6+**

**4.**

**1.Tc8+**

**5.**

**1.Tf8+**

**6.**

**1.Thh5**

**7.**

**1.Tg2+**

**8.**

**1.Tdc4**


**9.**

**1.Td4+**

Prima di risolvere i problemi leggete attentamente le spiegazioni sulla prima pagina.

Ogni diagramma con una soluzione sbagliata o incompleta è valutato come un errore.


**1.**



Dopo 1.Dxg7+ Rxg7

**2.T1h7#**

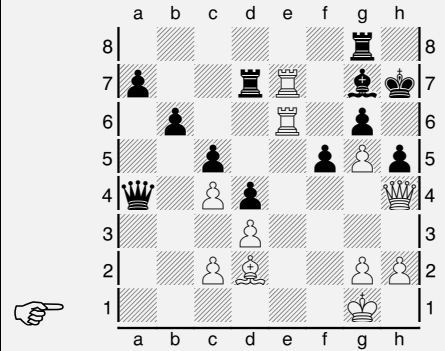
**2.**



Dopo 1.Dxh7+ Rxh7

**2.Th5#**


**3.**



Dopo 1.Dxh5+ gxh5

**2.Th6#**

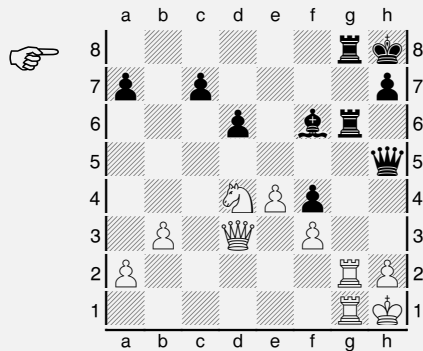
**4.**



Dopo 1.Dxh7+ Rxh7

**2.Th5#**


**5.**



Dopo 1... Dxh2+ 2.Txh2

**2...Txg1#**

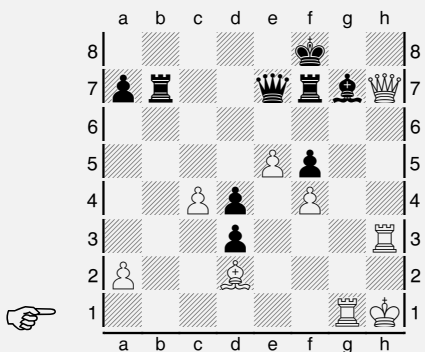
**6.**



Dopo 1.Dxg7+ Dxg7

**2.Txf7#**

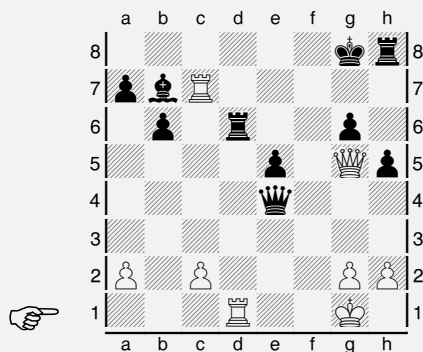
**7.**



Dopo 1.Dh8+ Axh8

**2.Txh8#**


**8.**



Dopo 1.Dd8+ Txd8

**2.Txd8#**

**9.**



Dopo 1.Dxc8+ Re7

**2.Td7#**

Prima di risolvere i problemi leggete attentamente le spiegazioni sulla prima pagina.

Ogni diagramma con una soluzione sbagliata o incompleta è valutato come un errore.

**1.**

Dopo 1... Da3+ 2.Rxa3  
**2...Ta1#**

**2.**

Dopo 1.Dxg8+ Rxc8  
**2.Te8#**

**3.**

Dopo 1.Dxf8+ Rxf8  
**2.Td8#**

**4.**

Dopo 1.Dxf7+ Rxf7  
**2.Tf3#**

**5.**

Dopo 1.Dxg5+ Cxg5  
**2.Th8#**

**6.**

Dopo 1.Df6+ Dxf6  
**2.Txh7#**

**7.**

Dopo 1... Da1+ 2.Rc4  
**2...Tb4#**

**8.**

Dopo 1... Ad3+ 2.Rg1  
**2...Tg3#**

**9.**

Dopo 1.Ag8+ Rh8  
**2.Th7#**

Prima di risolvere i problemi leggete attentamente le spiegazioni sulla prima pagina.

Ogni diagramma con una soluzione sbagliata o incompleta è valutato come un errore.

**1.**

Dopo 1.Td8+ Rh7  
**2.Txg7#**

**2.**

Dopo 1... Dxh2+ 2.Rxh2  
**2...Th6#**

**3.**

Dopo 1.Txg7+ Rh8  
**2.Tg8#**

**4.**

Dopo 1... Ag4+ 2.Rc1  
**2...Td1#**

**5.**

Dopo 1.Ad7+ Txd7  
**2.Tf8#**

**6.**

Dopo 1.Af6+ Cd7  
**2.Th8#**

**7.**

Dopo 1... Th2+ 2.Rg1  
**2...Tag2#**

**8.**

Dopo 1.Cf7+ Rh7  
**2.Th8#**

**9.**

Dopo 1... Cf3+ 2.gxf3  
**2...Th4#**

Prima di risolvere i problemi leggete attentamente le spiegazioni sulla prima pagina.

Ogni diagramma con una soluzione sbagliata o incompleta è valutato come un errore.

**1.**

Dopo 1...Cg3+ 2.hxg3  
**2...Th5#**

**2.**

Dopo 1...Txh3+ 2.Th2  
**2...Txh2#**

**3.**

Dopo 1.Ce6+ Re8  
**2.Th8#**

**4.**

Dopo 1.Af7+ Rf8  
**2.Td8#**

**5.**

Dopo 1.Cc6+ Ca7  
**2.Tb8#**

**6.**

Dopo 1... Cf2+ 2.Re1  
**2...Td1#**

**7.**

Dopo 1.Te6+ Rd5  
**2.Td6#**

**8.**

Dopo 1.Tc3+ Rd2  
**2.Td1#**

**9.**

Dopo 1.Ah7+ Rh8  
**2.Tf8#**