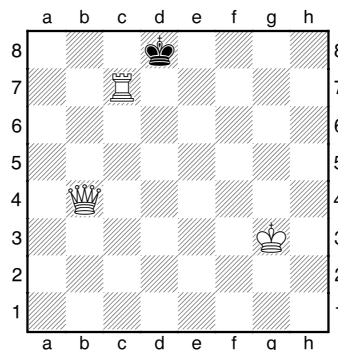


Livello 1 (≥ ~1000 Elo)


Conoscenza dell'uso delle regole del gioco

1. Esercizio pratico



Il Bianco può dare matto in una mossa in due modi diversi. Come?

2. Gagliardi, C. (2253) - Rinaldo, A. (1753) 3° CHessOpen Soazza 2011

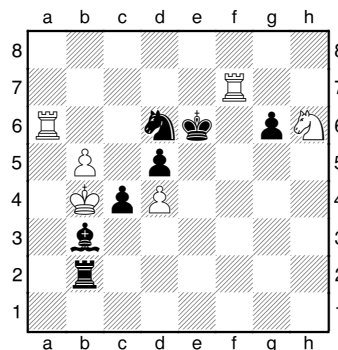


Qual'è la miglior difesa del Bianco.

Livello 2 (≥ ~1300 Elo)


Conoscenza dell'uso di un motivo tattico

1. Boschetti, C. (2097) - Czebe, A. (2513) 3° CHessOpen Soazza 2011



Il Bianco da matto in due mosse.

2. Zahner, R. (1663) - Borin, F. (2139) 3° CHessOpen Soazza 2011




Il Nero guadagna materiale in due mosse.

Livello 3 (≥ ~1500 Elo)


Conoscenza dell'uso di due motivi tattici/strategici

1. Boschetti, C. (2097) - Rinaldo, A. (1753) 3° CHessOpen Soazza 2011



Il Bianco guadagna materiale.

2. Zahner, R. (1663) - Biaggi, D. 3° CHessOpen Soazza 2011




Il Bianco si assicura un vantaggio decisivo (due soluzioni).

Livello ≥ 4 (≥ ~1800 Elo)

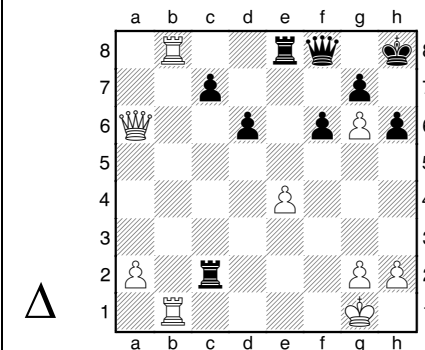
Conoscenze dell'uso di più motivi tattici/strategici con diverse varianti

1. Capablanca - Thomas Hastings 1919



In questa posizione Thomas abbandonò. Il Nero poteva invece difendersi e assicurarsi addirittura un leggero vantaggio. Come?

2. Capablanca - Thomas Hastings 1919



Invece di giocare 1.Da8? (vedi diagramma superiore) come poteva vincere Capablanca? (due soluzioni)